

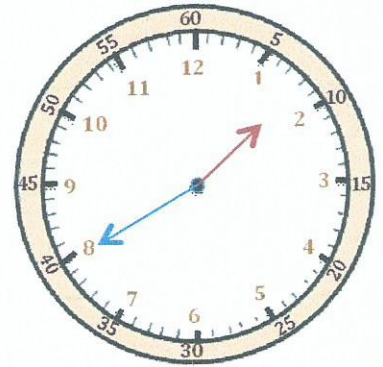
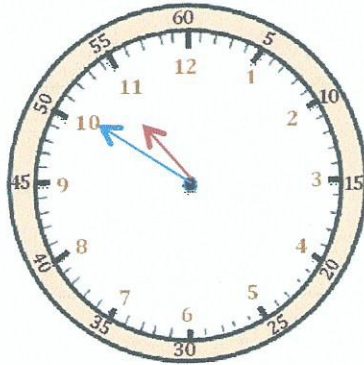
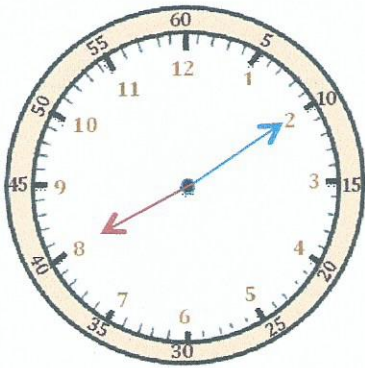


Mesures

Fiche 9

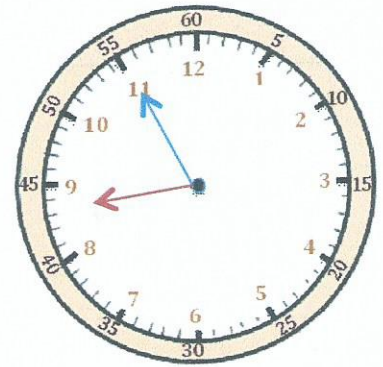
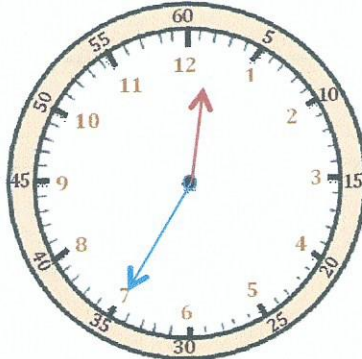
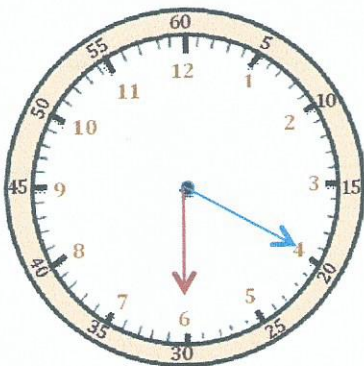
Les heures

1 J'écris les heures indiquées sur ces horloges. Nous sommes l'après-midi.



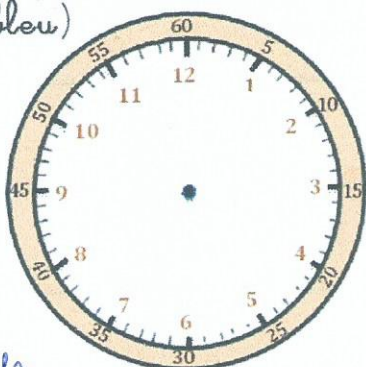
Il est ___ h et ___ min. Il est ___ h et ___ min. Il est ___ h et ___ min.

2 J'écris les heures indiquées sur ces horloges. Nous sommes le matin.

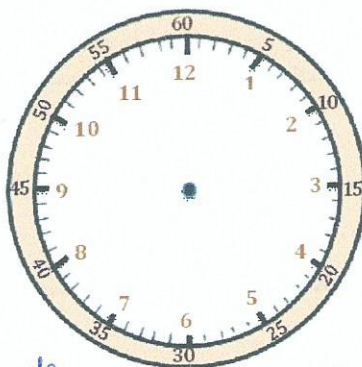


Il est ___ h et ___ min. Il est ___ h et ___ min. Il est ___ h et ___ min.

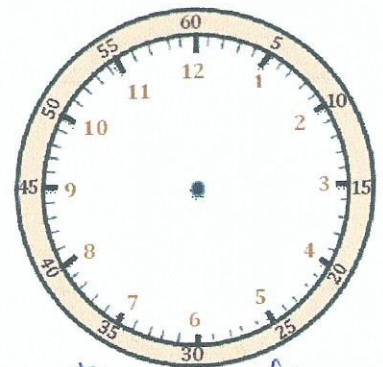
3 Je place les aiguilles selon les heures indiquées. (heures en rouge, minutes en bleu)



Il est 18 h 45 min.



Il est 14 h 25 min.



Il est 21 h 50 min.