

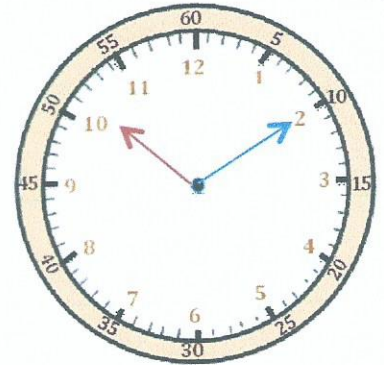
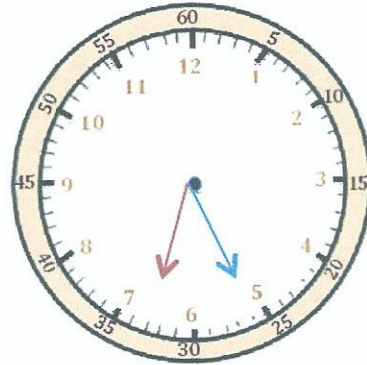
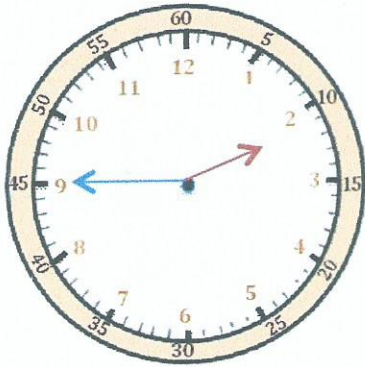


Mesures

Fiche 8

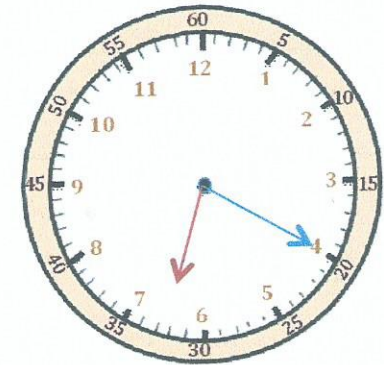
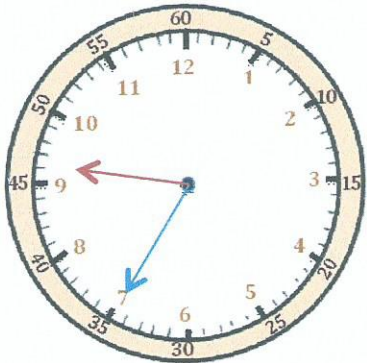
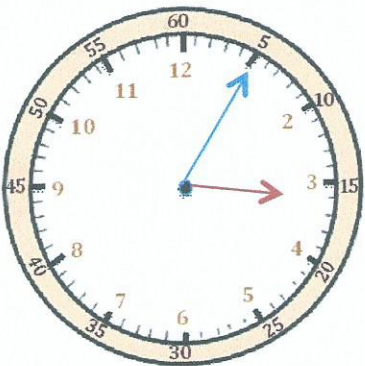
Les heures

1 J'écris les heures indiquées sur ces horloges. Nous sommes le matin.



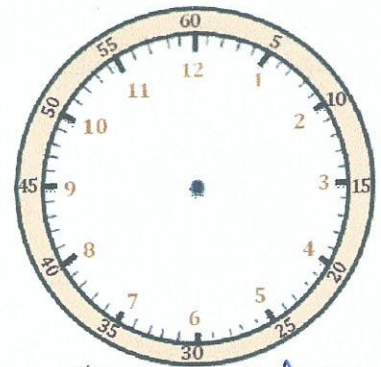
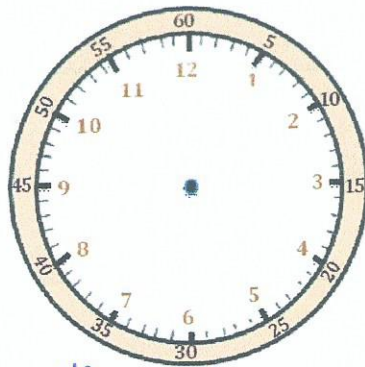
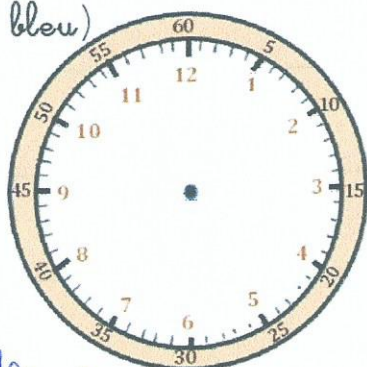
Il est ___ h et ___ min. Il est ___ h et ___ min. Il est ___ h et ___ min.

2 J'écris les heures indiquées sur ces horloges. Nous sommes l'après-midi.



Il est ___ h et ___ min. Il est ___ h et ___ min. Il est ___ h et ___ min.

3 Je place les aiguilles selon les heures indiquées. (heures en rouge, minutes en bleu)



Il est 2 h 05 min

Il est 8 h 20 min

Il est 11 h 10 min