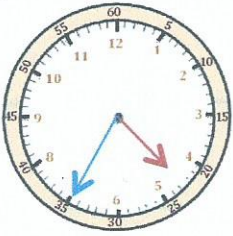




Mesures

Les heures

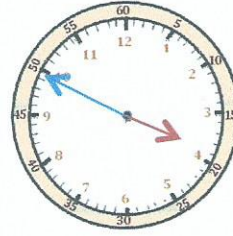
1 J'écris les heures et les minutes comme le modèle.



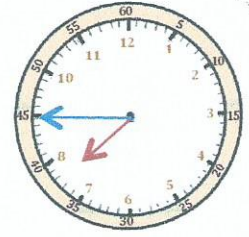
Il est 4 h 35 min ou
5 h moins vingt-cinq.



Il est ___ h ___ min
ou _____



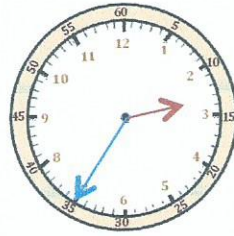
Il est ___ h ___ min
ou _____



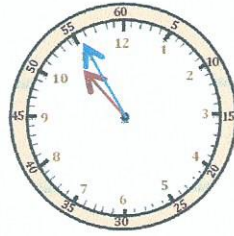
Il est ___ h ___ min
ou _____



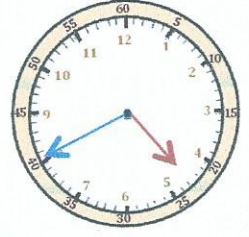
Il est ___ h ___ min
ou _____



Il est ___ h ___ min
ou _____



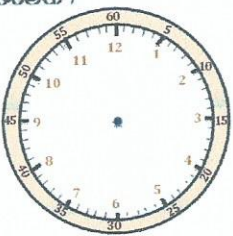
Il est ___ h ___ min
ou _____



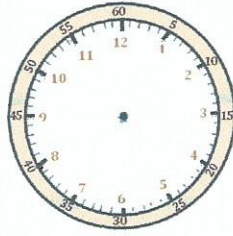
Il est ___ h ___ min
ou _____



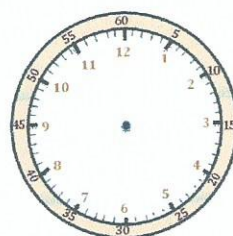
2 Je place les aiguilles selon les heures indiquées. (heures en rouge, minutes en bleu.)



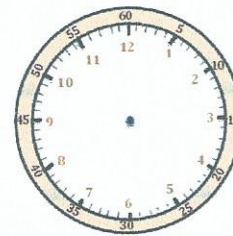
Il est 12 h 40 min.



Il est 9 h moins vingt-cinq.



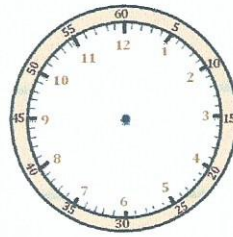
Il est 15 h 55 min.



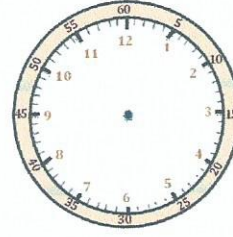
Il est 1 h moins le quart.



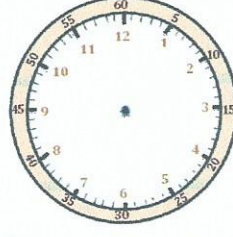
Il est 6 h moins dix.



Il est 21 h 35 min.



Il est midi moins cinq.



Il est 17 h 40 min.