

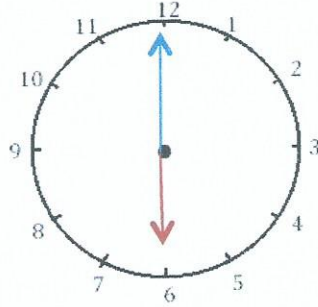


# Mesures

Fiche 5

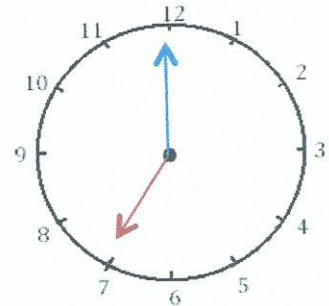
## Les heures

1 J'écris les heures indiquées sur ces horloges. Nous sommes l'après-midi.



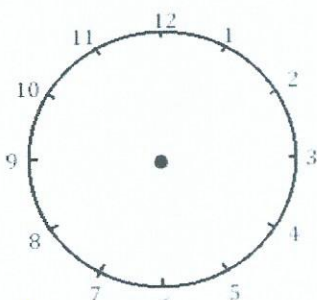
Il est \_\_\_ h et \_\_\_ min. Il est \_\_\_ h et \_\_\_ min. Il est \_\_\_ h et \_\_\_ min.

2 J'écris les heures indiquées sur ces horloges. Nous sommes le matin.

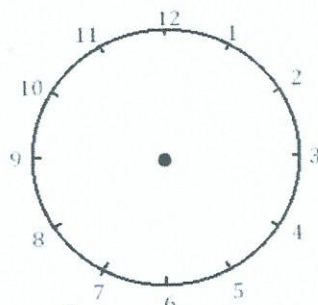


Il est \_\_\_ h et \_\_\_ min. Il est \_\_\_ h et \_\_\_ min. Il est \_\_\_ h et \_\_\_ min.

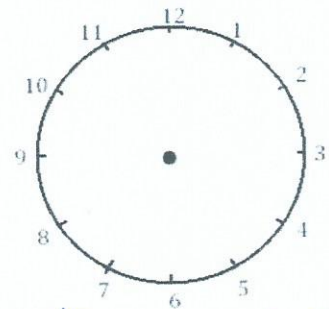
3 Je place les aiguilles selon les heures indiquées. (heures en rouge, minutes en bleu)



Il est 21 h 30 min.



Il est 13 h 00 min.



Il est 18 h 30 min.

