

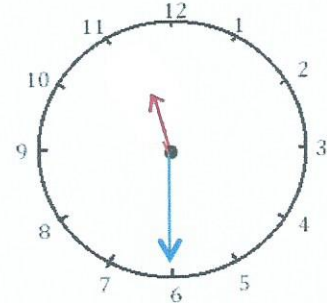
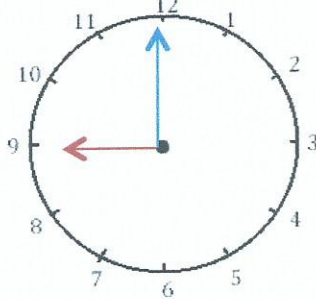


# Mesures

Fiche 4

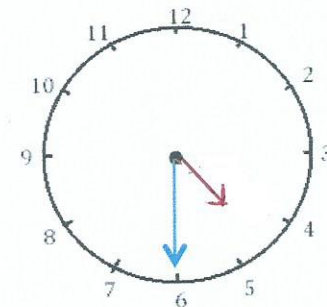
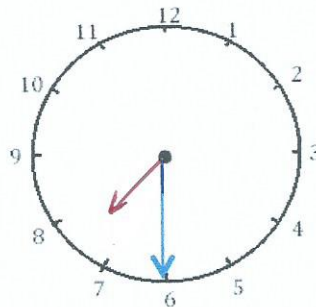
## Les heures

1 J'écris les heures indiquées sur ces horloges. Nous sommes le matin.



Il est \_\_\_ h et \_\_\_ min. Il est \_\_\_ h et \_\_\_ min. Il est \_\_\_ h et \_\_\_ min.

2 J'écris les heures indiquées sur ces horloges. Nous sommes l'après-midi.

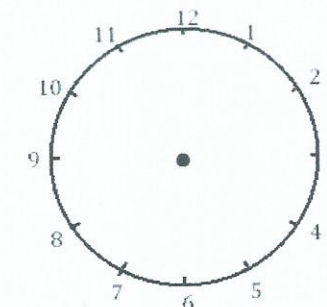
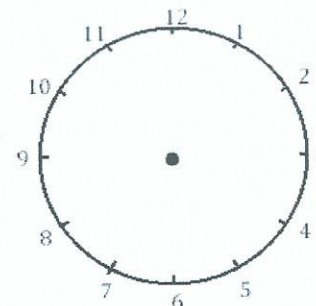
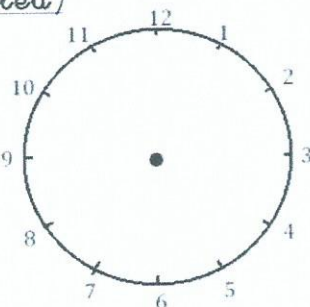


Il est \_\_\_ h et \_\_\_ min. Il est \_\_\_ h et \_\_\_ min. Il est \_\_\_ h et \_\_\_ min.

3 Je place les aiguilles selon les heures indiquées. (heures en rouge, minutes



bleu)



Il est 12 h. 30 min

Il est 9 h. 00 min.

Il est 15 h 30 min