

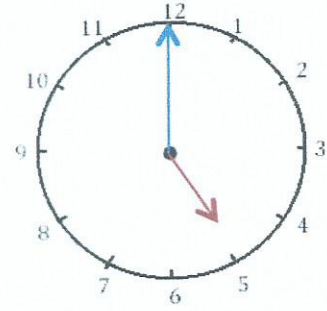
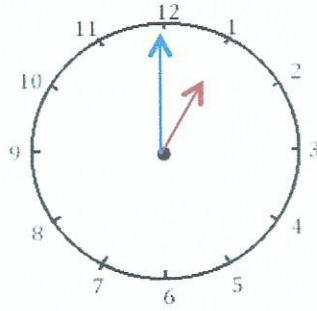
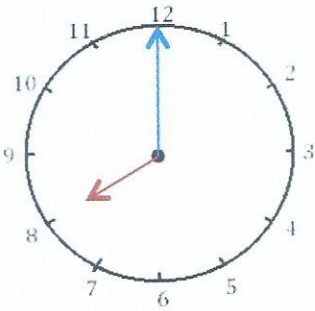


Mesures

Fiche 3

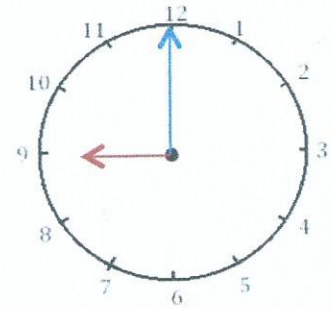
Les heures

1 J'écris les heures indiquées sur ces horloges. Nous sommes l'après-midi.



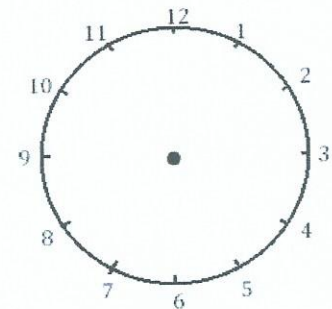
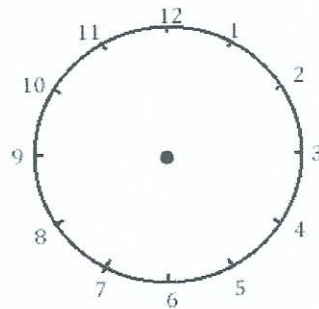
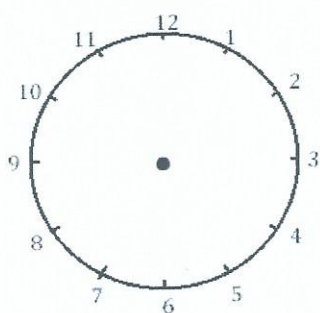
Il est ___ h et ___ min. Il est ___ h et ___ min. Il est ___ h et ___ min.

2 J'écris les heures indiquées sur ces horloges. Nous sommes le matin.



Il est ___ h et ___ min. Il est ___ h et ___ min. Il est ___ h et ___ min.

3 Je place les aiguilles selon les heures indiquées. (heures en rouge, minutes en bleu)



Il est 11 h00.

Il est 15 h00.

Il est 19 h00.