

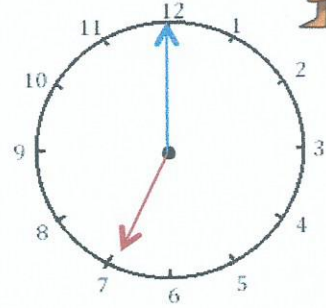
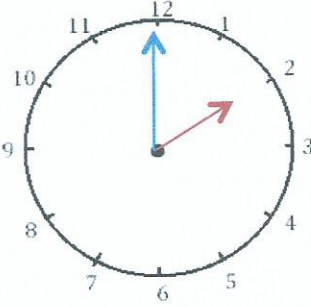


Mesures

Fiche 2

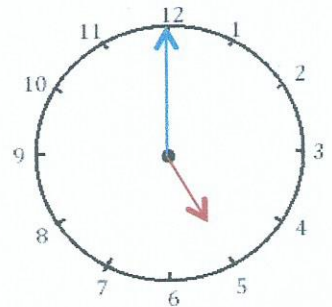
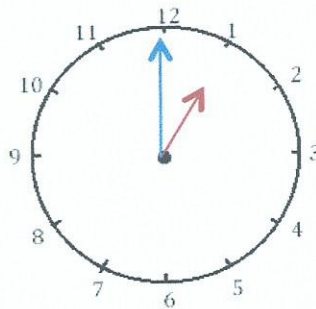
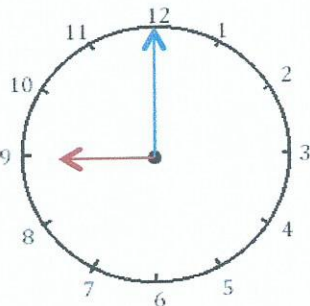
Les heures

1 J'écris les heures indiquées sur ces horloges. Nous sommes l'après midi.



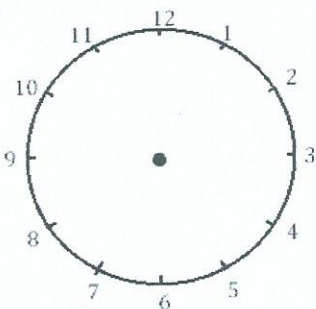
Il est ___ h et ___ min. Il est ___ h et ___ min. Il est _____.

2 J'écris les heures indiquées sur ces horloges. Nous sommes l'après-midi.

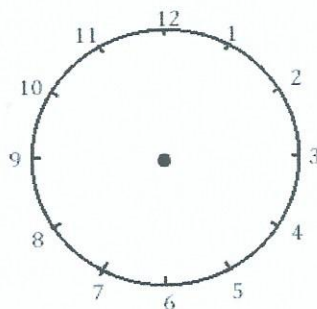


Il est ___ h et ___ min. Il est ___ h et ___ min. Il est _____.

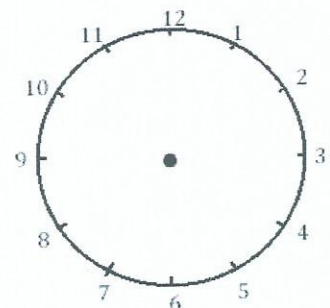
3 Je place les aiguilles selon les heures indiquées. (heures en rouge, minutes en bleu)



Il est 13h00.



Il est 20h00.



Il est 23h00.