

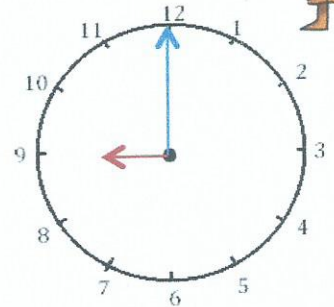
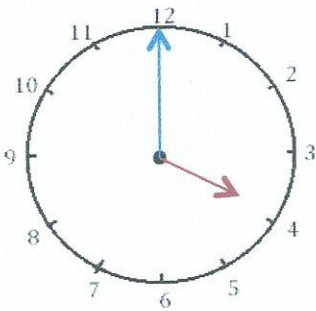


Mesures

Fiche 1

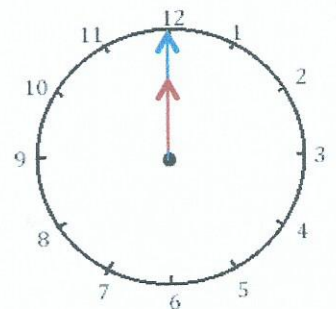
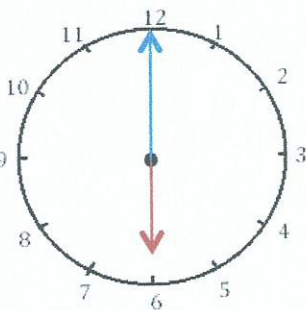
Les heures

1 J'écris les heures indiquées sur ces horloges. Nous sommes le matin.



Il est ___ h et ___ min. Il est ___ h et ___ min. Il est _____.

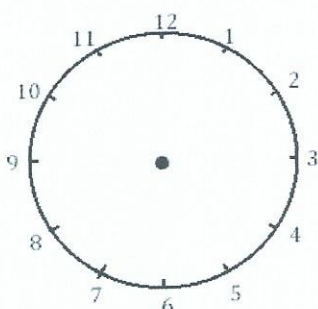
2 J'écris les heures indiquées sur ces horloges. Nous sommes le matin.



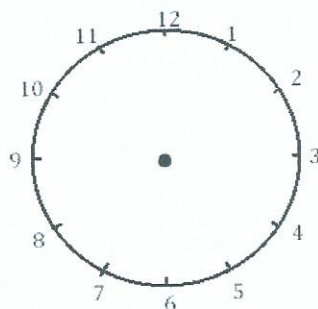
Il est ___ h et ___ min. Il est ___ h et ___ min. Il est _____.



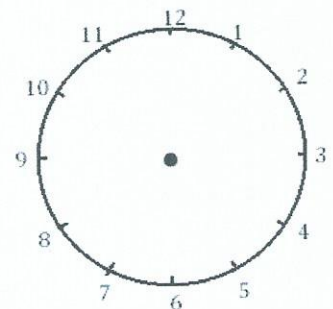
3 Je place les aiguilles selon les heures indiquées. (heures en rouge, minutes en bleu.)



Il est 3 h00.



Il est 11 h00.



Il est 5 h00.